



# Aprendemos a sumar

$$\begin{array}{r} 4 \\ + 3 \\ \hline 7 \end{array}$$



ÁMBITO: INTERACCIÓN Y COMPRENSIÓN DEL ENTORNO.

NÚCLEO: PENSAMIENTO MATEMÁTICO

OA N° 8. Resolver problemas simples de manera concreta y pictórica agregando o quitando hasta 10 elementos, comunicando las acciones llevadas a cabo.

Habilidad: Resolver problemas

sumar



Es lo mismo que agregar, juntar o unir, también se le llama adición.  
Se representa con el símbolo + que se llama más.





3 + 2 = 5

sumar es lo mismo que unir, también se le llama adición. Se representa con el símbolo + que se llama más.

Ariel tiene 1 estrella de mar y Flounder tiene 1 también. ¿Cuántas estrellas de mar tienen entre los dos?










2

Muy bien, Ariel y Flounder tienen 2 estrellas de mar

Dora tiene **2** globos y Botas tiene **1** .  
¿Cuántos globos tienen entre los dos?









3

Excelente, Dora y Boots tienen 3 globos

Bob esponja tiene 1 cangreburger y Patricio tiene 2. ¿Cuántas tienen entre los dos?





3

Si, Bob y Patricio tienen 3 cangreburger



Miss Spider tiene 1 flor y Rebote tiene 3 flores. ¿Cuántas tienen en total?





4

Miss Spider y Rebote tienen 4 flores

Pocoyo tiene **2** paletas de dulce y Pato tiene  
otras **2**.

¿Cuántas paletas tienen entre los dos?






4

Si, Pocoyo y Pato tienen 4 paletas

Caperucita tiene **2** manzanas y su mamá le dio **3** más.

¿Cuántas tiene ahora?





5

Bien, ahora Caperucita tiene 5 manzanas

Enrique tiene **3** pasteles y Beto tiene **2** más.  
¿Cuántos pasteles tienen entre ambos?





5

Claro, Beto y Enrique tienen 5 pasteles



Mickey tiene 4 galletas de corazón y Minnie tiene 2 más.

¿Cuántas galletas tienen en total?





6

Eso es, Mickey y Minnie tienen 6 galletas

Tyron tiene 3 autitos y Austin tiene 3.  
¿Cuántos autos tienen en total?





6

Muy bien, ellos tienen 6 autitos en total

Barney tiene 4 monedas y Baby Bop tiene 3.  
¿Cuántas monedas tienen entre los dos?





7

Bien, Barney y Baby Bop tienen 7 monedas

Stephanie tiene **2** naranjas y Spartacous tiene **5**. ¿Cuántas tienen entre los dos?





7

Excelente, Stephanie y Spartacous tienen 7 naranjas